

## تسلسل الأرقام

أكمل الأرقام.

1 , 2 , — , 4 , 5 , 6 , 7

2 , 3 , — , 5 , — , 7 , —

3 , 4 , 5 , 6 , — , 8 , 9

— , 5 , — , 7 , 8 , — , 10

5 , — , 7 , 8 , 9 , — , 11


6 , 7 , — , 9 , 10 , — , 12

## تفكير حسابي

اطرح واكتب الكمية الكلية.


## تفكير حسابي

أجب على الأسئلة.



يوجد \_\_\_\_\_ ؟



كم كلب

يوجد \_\_\_\_\_ ؟



كم أرنب

يوجد \_\_\_\_\_ ؟



كم صوص

يوجد \_\_\_\_\_ ؟



كم مقص

يوجد \_\_\_\_\_ ؟



كم جزرة

يوجد \_\_\_\_\_ ؟

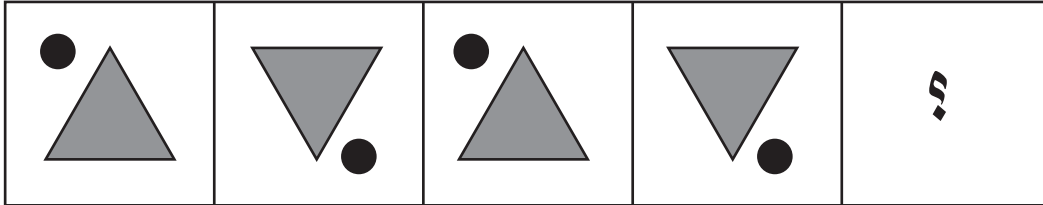
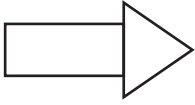


كم قط

لَوْن كما تشاء...

سؤال رقم 13

ابدأ من هنا

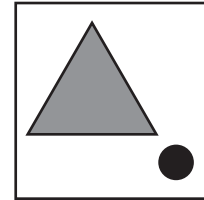
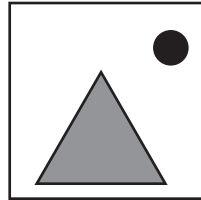
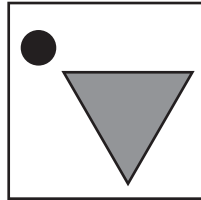



(د)

(ج)

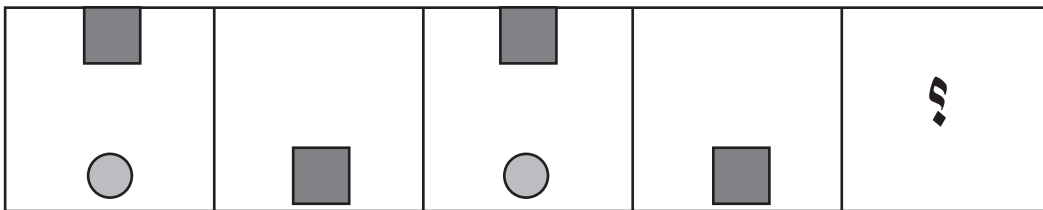
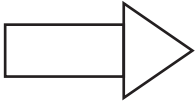
(ب)

(أ)



سؤال رقم 14

ابدأ من هنا

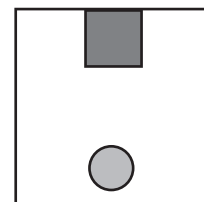
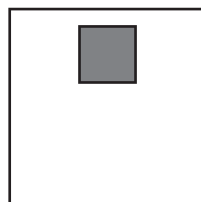
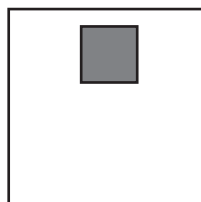
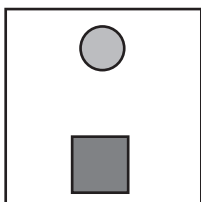


(د)

(ج)







(ب)

(أ)



## ما هي الكمية

احذف دوائر بواسطة إشارة X للوصول للرقم بجانب الشجرة لَوْن وفق ما تراه مناسب.



## سودوكو الأرقام

إملا الفراغات بالأرقام من 1 - 4 شرط ألا يتكرر الرقم نفسه في كل سطر، عمود وقطر في المربعات المشددة وفي المربع الكبير.

1	4	2	
3			1
			2
2			

3		1	
		2	
1	2	3	4